

Projekt współfinansowany przez Unię Europejską w ramach Europejskiego Funduszu Społecznego.

Karta pracy – Zmierz i oblicz z misiem

Zadanie 1

Otocz pętlami te naczynia, w których razem będzie 1 litr płynu.



500 ml



400 ml



250 ml



200 ml



100 ml

Zadanie 2

Uzupełnij tabelkę.




2m		5m		10m	
1m 30 cm +	<input type="text"/>	4m 20cm +	<input type="text"/>	9m 4cm +	<input type="text"/>
1m 85cm +	<input type="text"/>	3m 58cm +	<input type="text"/>	8 m 76cm +	<input type="text"/>
90cm +	<input type="text"/>	55cm +	<input type="text"/>	6m+	<input type="text"/>



Projekt współfinansowany przez Unię Europejską w ramach Europejskiego Funduszu Społecznego.

Zadanie 3

Zmierz za pomocą linijki długość narysowanych odcinków. Zapisz wyniki pomiarów. Podaj wyniki w centymetrach i milimetrach.



AB = cm mm

CD = cm mm

EF = cm mm

